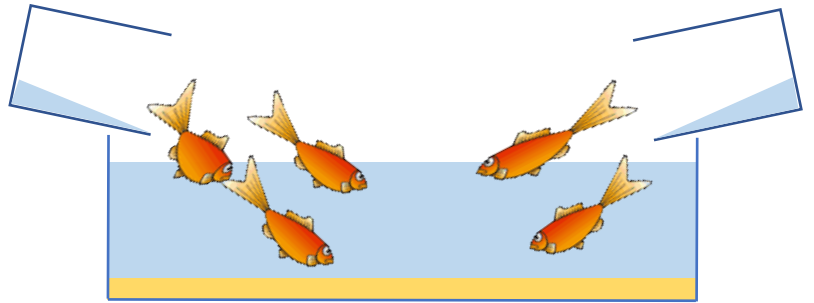


<たんげん> **あわせて いくつ ふえると いくつ** (きょうかしよ Iねん P.41~P.50)

※ぶろっくを じゅんびしましょう。


<めあて> あわせて いくつになる けいさんや、
ふえると いくつになる けいさんについて かんがえよう。

1 きょうかしよの 41ぺえじを みましょう。
「あわせると なんびきになりますか。」を
かんがえましょう。



(1) みぎの きんぎよの うえに ぶろっくを
おきましょう。

(2) (1)で おいた ぶろっくを
みぎの ように おきましょう。



(3) (2)で おいた ぶろっくを りょうほうの てで あわせましょう。

(4) 「3と 2を あわせると、5になります。」このことを つぎの ように かきます。なぞりましょう。

しき $3 + 2 = 5$ こたえ 5ひき

(5) 「+」「=」を かきましょう。かきじゅんは きょうかしよ 42ぺえじを みましょう。

+							=					
---	--	--	--	--	--	--	---	--	--	--	--	--

(6) きょうかしよ 42ぺえじ、43ぺえじを やりましょう。

①(えんぴつもんだい I)りんごは あわせると なんこになりますか。

しき $1 + 3 = \square$ こたえ \square こ

②ちゅうりっぷは ぜんぶで なんぼんになりますか。

しき $\quad + \quad =$ こたえ ぽん

③みんなで なんにんになりますか。

しき こたえ にん

(7) 42ぺえじを みて、()に あてはまる ことばを かききましょう。

3+2や 1+3のような けいさんを()と いいます。

2 きょうかしの 44ぺえじを やりましょう。

(1) あかい あめが 3こ あります。きいろい あめが 4こ あります。

あめは ぜんぶで なんこ ありますか。

しき

こたえ こ

(2) しろねこが 5ひき います。とらねこが 4ひき います。

ねこは あわせて なんびきですか。

しき

こたえ ひき

(3) えんぴつもんだい3を やりましょう。

- | | | | |
|-------|-------|-------|-------|
| ① 4+1 | ② 6+3 | ③ 2+5 | ④ 3+3 |
| ⑤ 1+2 | ⑥ 7+1 | ⑦ 2+7 | ⑧ 4+4 |

3 きょうかしよ 46ぺえじを みましょう。

「きんぎよが すいそうに 5ひき います。2ひき ふえました。ぜんぶで なんびきになりますか。」

(1) きょうかしよと おなじように、ぶろっくを ならべて うごかしてみましょう。



(2) きょうかしよ 46ぺえじを みて、() に あてはまる ことばや しきを かきましょう。

5 あって 2 ふえると、7に なります。

このときも () に なります。

しき () こたえ () ひき

(3) きょうかしよ 46ぺえじ、47ぺえじを やりましょう。

① (えんぴつもんだい1) くるまが 2だい あります。1だい ふえました。ぜんぶで なんだいに なりましたか。

しき $2 + 1 =$ こたえ だい

② とりが 3わ います。5わ くと、ぜんぶで なんわに なりますか。

しき $+$ $=$ こたえ わ

③ ほんが 4さつ あります。2さつ もらうと、ぜんぶで なんさつに なりますか。

しき こたえ さつ

④ こどもが 7にん います。3にん きました。みんなで なんにんに なりましたか。

しき こたえ にん

(4) きょうかしよ 47ぺえじを みましよう。えんぴつもんだい2を やりましよう。

- ① $2+3$ ② $5+1$ ③ $2+2$ ④ $3+6$
 ⑤ $5+5$ ⑥ $2+6$ ⑦ $6+4$ ⑧ $1+9$

4 きょうかしよ 48ぺえじの えをみて、4+3の しきになる もんだいを つくりましよう。

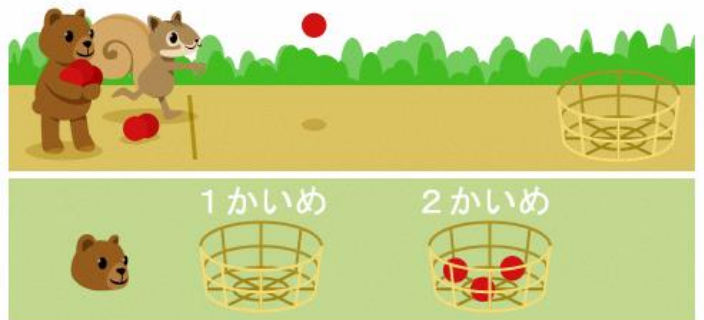
(れい) こどもが 4にん います。おとなが 3にん います。あわせて なんにんですか。

5 きょうかしよ 50ぺえじを みましよう。

- (1) くまが たまいを 2かい しました。
 はいった たまの かずを あわせると
 なんこに なりますか。

しき + 3 =

こたえ こ



(2) えんぴつもんだい2を やりましよう。

- ① $7+0$ ② $5+0$ ③ $0+8$ ④ $0+0$

6 きょうかしよ 49ぺえじを みましよう。(たしざんかあどを じゅんびましよう。)

(1) こたえが 6になる かあどを すべて あつめましよう。

(れい) $1+5$

(2) かあどを つかって、たしざんの れんしゅうを しましよう。

7 GIFU Webラーにんぐをつかって「たんげんまよめの れんしゅう」の がくしゅうを すすめましょう。
パソコンや タブレットなどで GIFU Webラーにんぐにつなぐときは おうちの ひとに きいて みま
しょう。

【おうちのひとへ】

GIFU Web ラーニングを使用するためのログイン名とパスワードPWは、
学校にお知らせしてありますので、ご確認ください。

※(こたえ) 1 (1) (2) (3) (4) (5) おうちの ひとに みてもらいましょう。

1 (6) ①しき $1+3=4$ こたえ 4こ ②しき $2+4=6$ こたえ 6ぽん

③しき $5+3=8$ こたえ 8にん

1 (7) このような けいさんを (たしざん) と いいます。

2 (1) しき $3+4=7$ こたえ 7こ (2) しき $5+4=9$ こたえ 9ひき

2 (3) ① $4+1=5$ ② $6+3=9$ ③ $2+5=7$ ④ $3+3=6$

⑤ $1+2=3$ ⑥ $7+1=8$ ⑦ $2+7=9$ ⑧ $4+4=8$

3 (1) おうちの ひとに みてもらいましょう。

(2) 5あって 2ふえると、7になります。

このときも (たしざん) になります。

しき ($5+2=7$) こたえ (7) ひき

(3) ①しき $2+1=3$ こたえ 3だい ②しき $3+5=8$ こたえ 8わ

③しき $4+2=6$ こたえ 6さつ ④しき $7+3=10$ こたえ 10にん

(4) ① $2+3=5$ ② $5+1=6$ ③ $2+2=4$ ④ $3+6=9$

⑤ $5+5=10$ ⑥ $2+6=8$ ⑦ $6+4=10$ ⑧ $1+9=10$

4 おうちの ひとに みてもらいましょう。

5 (1) しき $0+3=3$ こたえ 3こ (2) ① $7+0=7$ ② $5+0=5$ ③ $0+8=8$ ④ $0+0=0$

6 (1) $1+5, 2+4, 3+3, 4+2, 5+1$ (2) おうちの ひとに きいてもらいましょう。

★がくしゅうの ふりかえりを しましょう。

「がっこうが はじまったら せんせいに ききたいこと」 や

「わからなかった こと・しんぱいな こと」 が あったら かきましょう。